



# TEST 6

- 1) **identifiez ou considérez l'indication prise en compte sur les différents signaux au verso de la feuille.**
- 2) **Qu'appelle-t-on un signal fermé ?**
- 3) **Comment est identifié un signal de manœuvre ?**



- ☐ Carré
- ☐ Carré violet
- ☐ Sémaphore
- ☐ Avertissement



- ☐ Carré
- ☐ Carré violet
- ☐ Sémaphore
- ☐ Avertissement




- ☐ Carré
- ☐ Carré violet
- ☐ Sémaphore
- ☐ Avertissement



- ☐ Carré
- ☐ Carré violet
- ☐ Sémaphore
- ☐ Avertissement



- ☐ Carré
- ☐ Carré violet
- ☐ Sémaphore
- ☐ Avertissement



- ☐ Carré
- ☐ Carré violet
- ☐ Sémaphore
- ☐ Avertissement


Précisez l'indication prise en compte



- ☐ Carré
- ☐ Carré violet
- ☐ Sémaphore
- ☐ Avertissement



- ☐ Carré
- ☐ Carré violet
- ☐ Sémaphore
- ☐ Avertissement




- ☐ Carré
- ☐ Carré violet
- ☐ Sémaphore
- ☐ Avertissement



- ☐ Carré
- ☐ Carré violet
- ☐ Sémaphore
- ☐ Avertissement



- ☐ Carré
- ☐ Carré violet
- ☐ Sémaphore
- ☐ Avertissement



- ☐ Carré
- ☐ Carré violet
- ☐ Sémaphore
- ☐ Avertissement